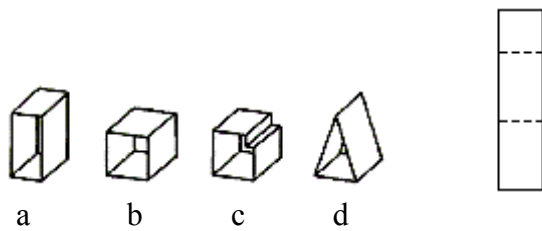


Räumliches Vorstellungsvermögen und logisches Denken

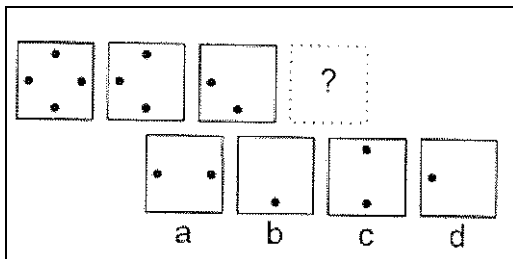
In bestimmten Berufen, wie im Handwerk oder auch als Mediendesigner oder Schildhersteller, ist es von Vorteil ein gutes räumliches Vorstellungsvermögen und technisches Verständnis zu besitzen. Folgende Aufgaben könnten diese Fähigkeiten testen:

Welche Figur wurde aus dem rechts dargestellten Material gefertigt?

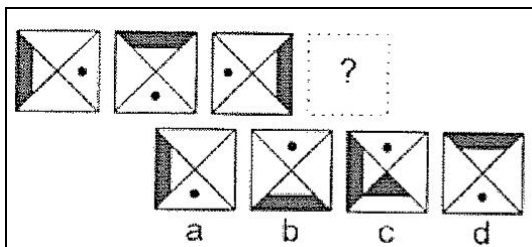


Figur d

Welches der 4 unten stehenden Auswahlfiguren soll anstatt des Fragezeichens eingesetzt werden?

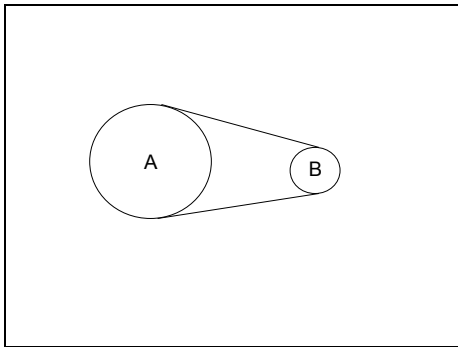


Figur b



Figur b

Die beiden Räder sind durch eine Kette miteinander verbunden. Welches der Räder dreht sich schneller?



Rad B